

# Regione Autonoma Valle d'Aosta Région Autonome Vallée d'Aoste

CONCORSO PUBBLICO PER L'ASSUNZIONE  
A TEMPO INDETERMINATO DI  
13 CANTONIERI  
CAT. B – POSIZIONE B2:  
OPERATORE SPECIALIZZATO

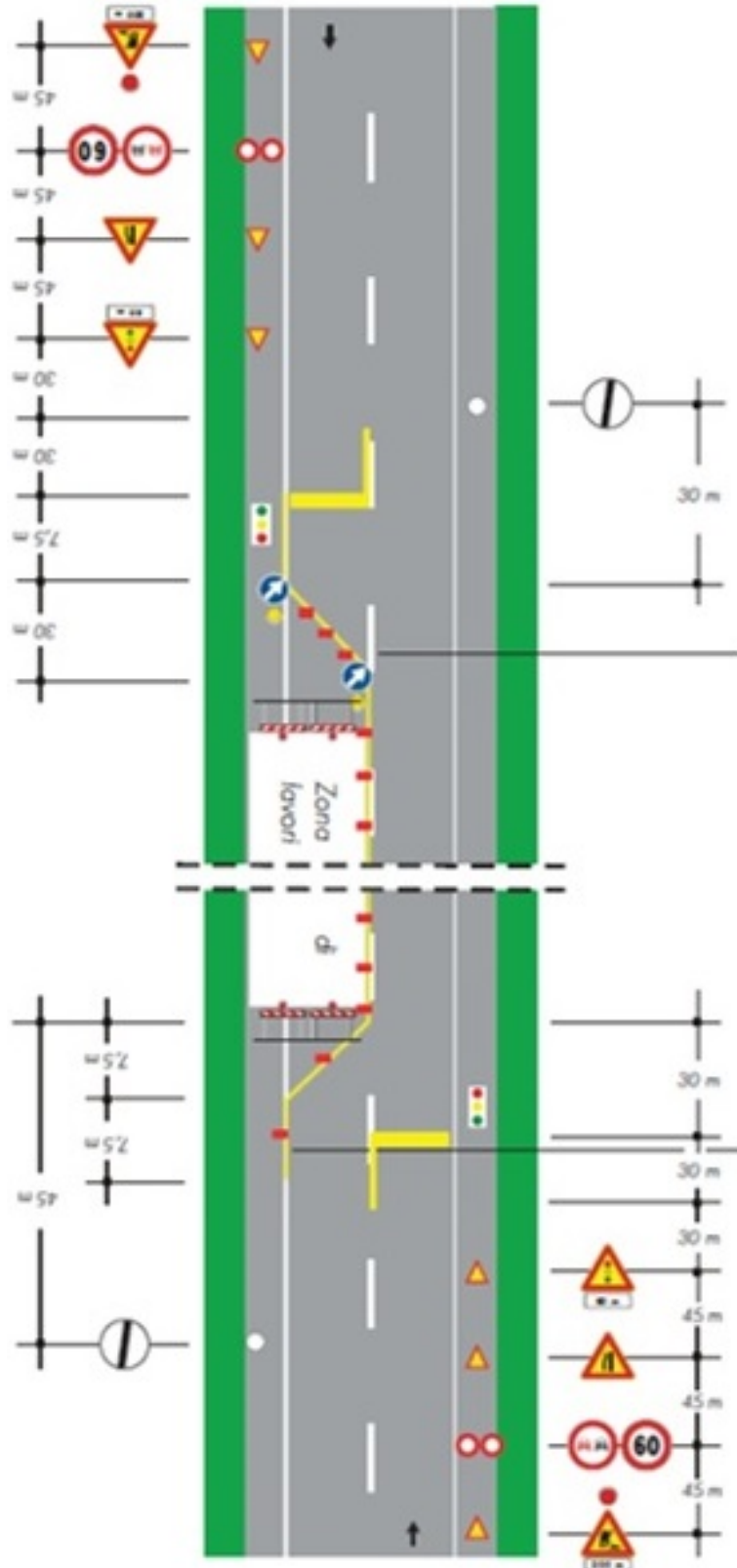
QUESTIONARIO 3  
VERSIONE DI STAMPA “A”

### QUESTIONARIO 3

**001. Ai sensi dell'art. 3 del Nuovo Codice della strada D.lgs. 285/1992 la BANCHINA è:**

- A) superficie compresa entro i confini stradali.
- B) parte della strada destinata allo scorrimento dei veicoli;
- C) parte della strada compresa tra il margine della carreggiata ed il più vicino degli elementi longitudinali tra cui marciapiede, spartitraffico, arginello, ciglio superiore scarpata

**002. Con riferimento alla Tavola n. 66 allegata al Decreto 10 luglio 2000, possono permanere in opera segnali temporanei e segnali permanenti in contrasto fra loro?**



- A) Sì, se il cantiere ha durata inferiore a 7 gg
- B) No, bisogna oscurare provvisoriamente o rimuovere i segnali permanenti.
- C) Sì, se il cantiere ha durata inferiore a 3gg

003. La punta di un trapano rappresentata in figura serve:



- A) per fori in muratura      B) per fori nel metallo      C) per fori nel legno

004. Ai sensi del comma 6 dell'art. 11 del Codice di Comportamento approvato con D.G.R. 1378/2023 il dipendente è tenuto a utilizzare la divisa, nella configurazione prevista, fornita dall'Amministrazione di competenza:

- A) Qualora sia necessario per garantire la propria sicurezza sul luogo di lavoro  
B) Qualora sia necessario, in base alle condizioni di lavoro, per non deteriorare i propri abiti Personali  
C) Qualora sia previsto da disposizioni di servizio o da regolamenti interni

005. Il segnale stradale in figura indica:



- A) cunetta      B) dosso      C) strada deformata

006. Ai sensi del comma 3 dell'art. 6 del Codice di Comportamento approvato con D.G.R. 1378/2023 il dipendente comunica al proprio ente l'esistenza di:

- A) Sanzioni amministrative a lui comminate per violazione del codice della strada  
B) Denunce per stalking presentate nei propri confronti  
C) Provvedimenti di rinvio a giudizio in procedimenti penali

007. Chi può essere autorizzato ad eseguire servizi ausiliari di polizia stradale, secondo l'articolo 12 del Nuovo Codice della strada D.lgs. 285/1992?

- A) Tutti i cittadini italiani con diploma  
B) Anche il personale ANAS e delle Ferrovie dello Stato, se autorizzato  
C) Solo il personale militare

008. Ai sensi dell'art. 76, comma 1, del D.LGS. 81/2008, I D.P.I. devono essere conformi:

- A) al Decreto legislativo n. 17/2019  
B) alle normative europee e nazionali di settore  
C) al regolamento (UE) n. 2016/425

009. Il segnale stradale rappresentato in figura:



- A) non ha bisogno di pannello integrativo  
B) deve essere completato con pannello integrativo  
C) può essere completato con un pannello integrativo

010. Cosa regola l'articolo 24 del Nuovo Codice della strada D.lgs. 285/1992?

- A) Le concessioni e l'uso delle pertinenze stradali  
B) La segnaletica temporanea  
C) I limiti di velocità sulle autostrade

## QUESTIONARIO 3

**011. Di che colore sono i catadiottri o catarifrangenti, lungo il margine destro di una strada regionale a doppio senso di circolazione?**

- A) rossi**                      **B) blu**                      **C) bianchi**

**012. Ai sensi dell'art. 3 del Nuovo Codice della strada D.lgs. 285/1992 la FASCIA DI PERTINENZA è:**

- A)** parte della strada adiacente alla carreggiata, separata da questa mediante striscia di margine discontinua e comprendente la fila degli stalli di sosta e la relativa corsia di manovra
- B)** parte della strada, di lunghezza limitata, adiacente esternamente alla banchina, destinata alla sosta dei veicoli
- C)** striscia di terreno, compresa tra la carreggiata ed il confine stradale

**013. Cosa succede se un soggetto esegue lavori stradali senza autorizzazione?**

- A) Non succede nulla**                      **B) Riceve un rimborso**                      **C) È soggetto a sanzioni amministrative**

**014. Un metro cubo di sabbia asciutta pesa approssimativamente:**

- A) 8,00-10,00 quintali**                      **B) 14,00-16,00 quintali**                      **C) 24,00-26,00 quintali**

**015. Quale dei seguenti segnali, a norma del Nuovo Codice della strada D.lgs. 285/1992, presegna un tratto di strada con lavori in corso o cantieri di deposito temporanei?**

- A)**



- B)**



- C)



**016. Il segnale stradale in figura indica:**



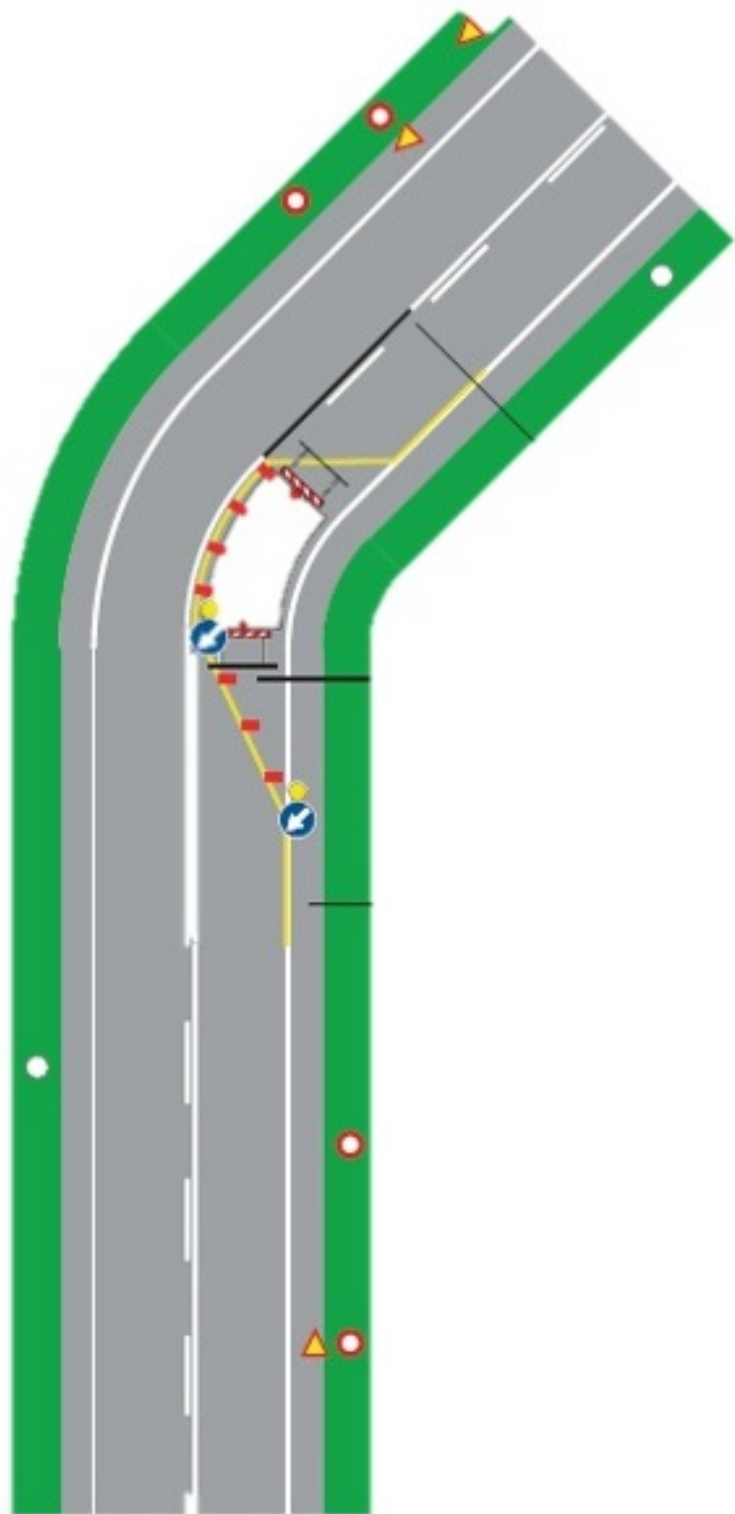
- A) caduta massi da sinistra**                      **B) materiale instabile sulla strada**                      **C) caduta massi da destra**

### QUESTIONARIO 3

**017. Ai sensi dell'art. 78, comma 1, del D.LGS. 81/2008, i lavoratori si sottopongono:**

- A) alla verifica, da parte del datore di lavoro, delle loro conoscenze tecniche in merito alle mansioni loro assegnate
- B) al programma di formazione e addestramento organizzato dal datore di lavoro nei casi ritenuti necessari
- C) alla visita medica preliminare di idoneità

**018. Con riferimento alla Tavola n. 71 allegata al Decreto 10 luglio 2002, la segnaletica orizzontale permanente va coperta?**



- A) Sì, nel caso di cantieri di durata maggiore di 2 gg
- B) Sì, sempre
- C) Sì, nel caso di cantieri di durata maggiore di 7 gg

**019. Se ho una tanica con all'interno 5 litri di benzina e devo fare una miscela al 2% per far funzionare un decespugliatore con motore a 2 tempi, devo aggiungere circa:**

- A) 200 ml di olio
- B) 50 ml di olio
- C) 100 ml di olio

**020. Definizione di caditoia:**

- A) Una fessura per il passaggio di cavi elettrici sotto la strada
- B) Una barriera di protezione per i pedoni
- C) dispositivo di drenaggio stradale costituito da una grata che consente il passaggio dell'acqua piovana verso il sistema di raccolta delle acque

021. Il segnale stradale rappresentato in figura:



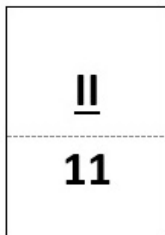
- A) raccomanda di avere, dal punto in cui nevica, le catene a bordo  
 B) obbliga a circolare dal punto di installazione del segnale, con catene o pneumatici da neve  
 C) indica strada percorribile solo con catene da neve

022. Il segnale stradale rappresentato in figura appartiene alla categoria dei segnali verticali di:



- A) pericolo  
 B) prescrizione  
 C) indicazione

023. La progressiva distanziometrica in figura:



- A) indica il km 2+110 della strada  
 B) indica il km 11+200 della strada  
 C) indica il km 2+200 della strada

024. Il cartello rappresentato in figura indica:



- A) animali domestici vaganti  
 B) animali selvatici vaganti  
 C) animali su strada

025. In quali categorie si dividono i segnali verticali?

- A) segnali di pericolo e di prescrizione  
 B) segnali di pericolo, di prescrizione, di indicazione  
 C) segnali di pericolo e di indicazione

026. Le strade sono classificate, riguardo alle loro caratteristiche costruttive, tecniche e funzionali in diversi tipi (art. 2 Nuovo Codice della strada D.lgs. 285/1992). A quale tipo appartiene la STRADA LOCALE ?

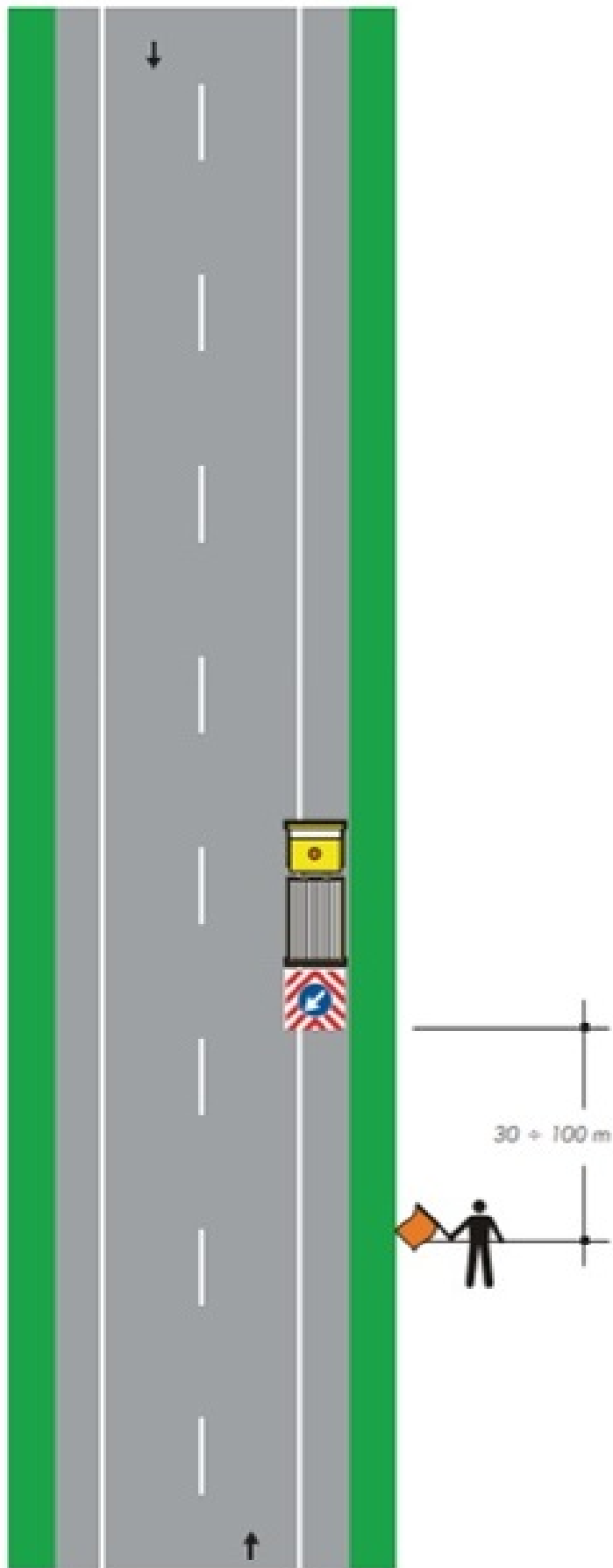
- A) strada di tipo C  
 B) strada di tipo B  
 C) strada di tipo F

027. Il cartello rappresentato in figura indica:



- A) via libera con catene o pneumatici da neve raccomandati
- B) via libera
- C) via libera con obbligo di catene o pneumatici da neve

028. Con riferimento alla Tavola n. 62 allegata al Decreto 10 luglio 2002, quando è ammesso questo tipo di cantiere mobile?

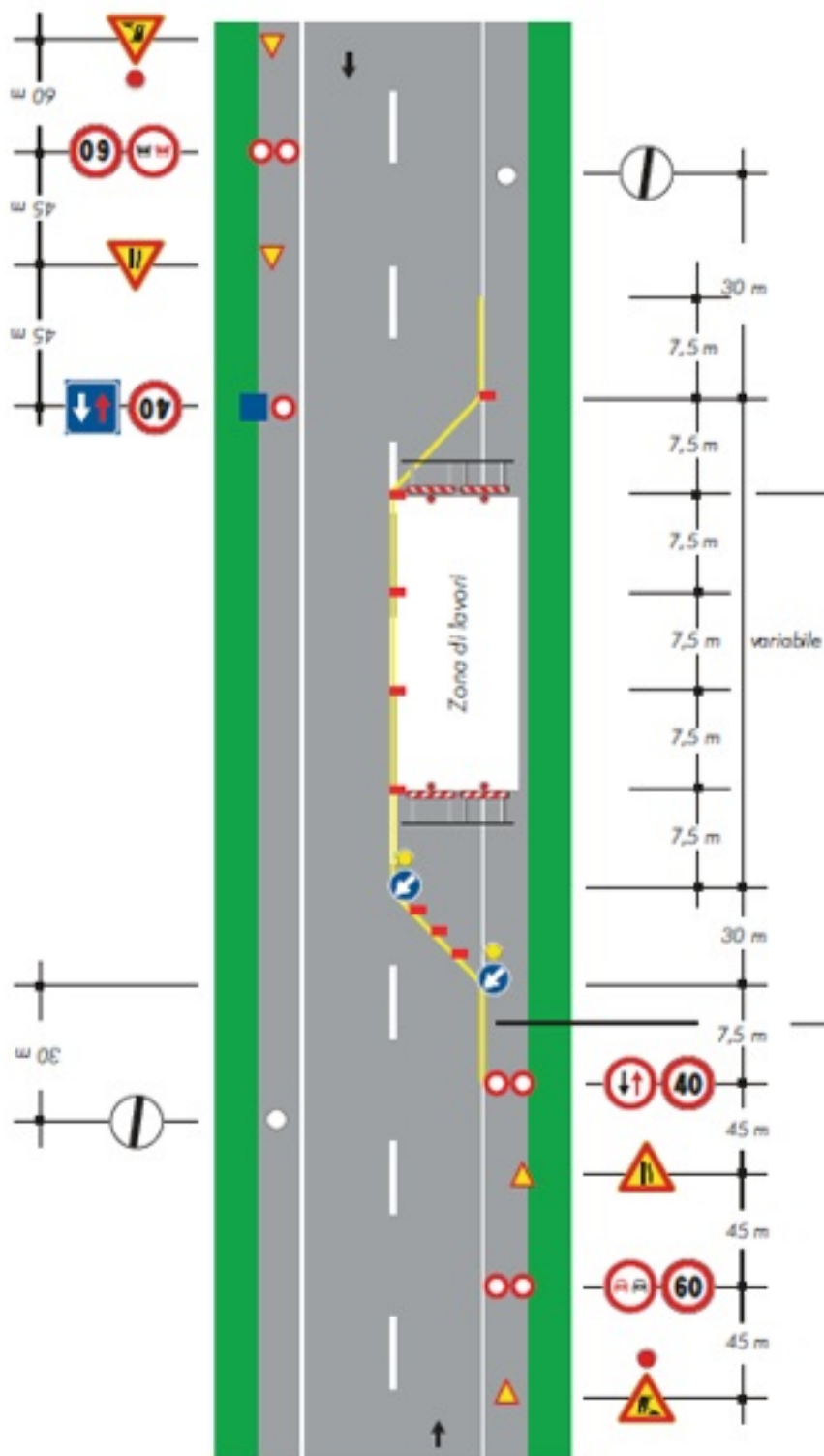


- A) Solo in caso di strade interessate da traffico modesto
- B) In caso di giornate serene
- C) Solo in caso di visibilità ottimale

029. Dovendo disgelare un tratto di cunetta ricoperto di ghiaccio, con una temperatura esterna intorno ai  $-15^{\circ}\text{C}$ , quale dei seguenti fondenti agisce più rapidamente?

- A) Sale marino grosso
- B) Cloruro di calcio
- C) Cloruro di sodio

030. Con riferimento alla Tavola n. 64 allegata al Decreto 10 luglio 2002, quando la segnaletica orizzontale deve essere gialla (temporanea)?



- A) Solo per lavori di durata superiore a 7 gg
- B) Per lavori di durata superiore a 15 gg
- C) Per lavori di durata superiore a 3 gg