

# Regione Autonoma Valle d'Aosta Région Autonome Vallée d'Aoste

CONCORSO PUBBLICO PER L'ASSUNZIONE  
A TEMPO INDETERMINATO DI  
13 CANTONIERI  
CAT. B – POSIZIONE B2:  
OPERATORE SPECIALIZZATO

QUESTIONARIO 3  
VERSIONE DI STAMPA “B”

001. Il cartello rappresentato in figura indica:



A) animali su strada

B) animali selvatici vaganti

C) animali domestici vaganti

002. Il segnale stradale in figura indica:



A) dosso

B) strada deformata

C) cunetta

003. Il segnale stradale rappresentato in figura:



A) deve essere completato con pannello integrativo

B) può essere completato con un pannello integrativo

C) non ha bisogno di pannello integrativo

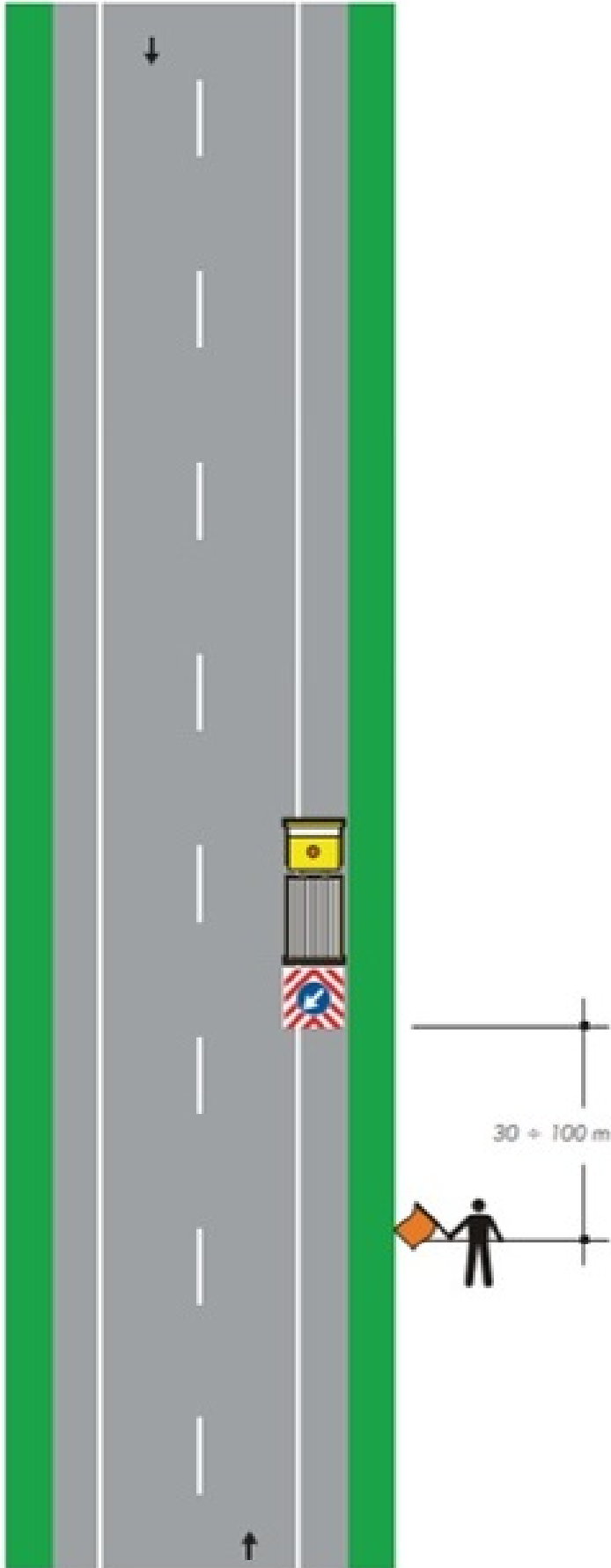
004. Ai sensi dell'art. 76, comma 1, del D.LGS. 81/2008, I D.P.I. devono essere conformi:

A) al regolamento (UE) n. 2016/425

B) alle normative europee e nazionali di settore

C) al Decreto legislativo n. 17/2019

005. Con riferimento alla Tavola n. 62 allegata al Decreto 10 luglio 2002, quando è ammesso questo tipo di cantiere mobile?



- A) Solo in caso di strade interessate da traffico modesto
- B) Solo in caso di visibilità ottimale
- C) In caso di giornate serene

006. Definizione di caditoia:

- A) Una barriera di protezione per i pedoni
- B) dispositivo di drenaggio stradale costituito da una grata che consente il passaggio dell'acqua piovana verso il sistema di raccolta delle acque
- C) Una fessura per il passaggio di cavi elettrici sotto la strada

007. Se ho una tanica con all'interno 5 litri di benzina e devo fare una miscela al 2% per far funzionare un decespugliatore con motore a 2 tempi, devo aggiungere circa:

- A) 50 ml di olio
- B) 100 ml di olio
- C) 200 ml di olio

008. Quale dei seguenti segnali, a norma del Nuovo Codice della strada D.lgs. 285/1992, presegna un tratto di strada con lavori in corso o cantieri di deposito temporanei?

A)



B)



C)



009. Il cartello rappresentato in figura indica:



- A) via libera con obbligo di catene o pneumatici da neve
- B) via libera
- C) via libera con catene o pneumatici da neve raccomandati

### QUESTIONARIO 3

**010. Cosa regola l'articolo 24 del Nuovo Codice della strada D.lgs. 285/1992?**

- A) Le concessioni e l'uso delle pertinenze stradali
- B) La segnaletica temporanea
- C) I limiti di velocità sulle autostrade

**011. La punta di un trapano rappresentata in figura serve:**



- A) per fori nel legno
- B) per fori in muratura
- C) per fori nel metallo

**012. Di che colore sono i catadiottri o catarifrangenti, lungo il margine destro di una strada regionale a doppio senso di circolazione?**

- A) rossi
- B) blu
- C) bianchi

**013. In quali categorie si dividono i segnali verticali?**

- A) segnali di pericolo e di prescrizione
- B) segnali di pericolo, di prescrizione, di indicazione
- C) segnali di pericolo e di indicazione

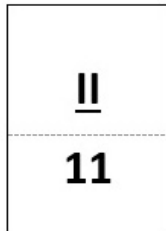
**014. Un metro cubo di sabbia asciutta pesa approssimativamente:**

- A) 8,00-10,00 quintali
- B) 24,00-26,00 quintali
- C) 14,00-16,00 quintali

**015. Ai sensi dell'art. 78, comma 1, del D.LGS. 81/2008, i lavoratori si sottopongono:**

- A) alla verifica, da parte del datore di lavoro, delle loro conoscenze tecniche in merito alle mansioni loro assegnate
- B) alla visita medica preliminare di idoneità
- C) al programma di formazione e addestramento organizzato dal datore di lavoro nei casi ritenuti necessari

**016. La progressiva distanziometrica in figura:**



- A) indica il km 11+200 della strada
- B) indica il km 2+200 della strada
- C) indica il km 2+110 della strada

**017. Chi può essere autorizzato ad eseguire servizi ausiliari di polizia stradale, secondo l'articolo 12 del Nuovo Codice della strada D.lgs. 285/1992?**

- A) Anche il personale ANAS e delle Ferrovie dello Stato, se autorizzato
- B) Tutti i cittadini italiani con diploma
- C) Solo il personale militare

**018. Ai sensi dell'art. 3 del Nuovo Codice della strada D.lgs. 285/1992 la BANCHINA è:**

- A) parte della strada compresa tra il margine della carreggiata ed il più vicino degli elementi longitudinali tra cui marciapiede, spartitraffico, arginello, ciglio superiore scarpata
- B) superficie compresa entro i confini stradali.
- C) parte della strada destinata allo scorrimento dei veicoli;

**019. Ai sensi dell'art. 3 del Nuovo Codice della strada D.lgs. 285/1992 la FASCIA DI PERTINENZA è:**

- A) parte della strada adiacente alla carreggiata, separata da questa mediante striscia di margine discontinua e comprendente la fila degli stalli di sosta e la relativa corsia di manovra
- B) parte della strada, di lunghezza limitata, adiacente esternamente alla banchina, destinata alla sosta dei veicoli
- C) striscia di terreno, compresa tra la carreggiata ed il confine stradale

020. Il segnale stradale rappresentato in figura:



- A) obbliga a circolare dal punto di installazione del segnale, con catene o pneumatici da neve
- B) indica strada percorribile solo con catene da neve
- C) raccomanda di avere, dal punto in cui nevicata, le catene a bordo

021. Il segnale stradale rappresentato in figura appartiene alla categoria dei segnali verticali di:



- A) prescrizione
- B) indicazione
- C) pericolo

022. Dovendo disgelare un tratto di cunetta ricoperto di ghiaccio, con una temperatura esterna intorno ai -15° C, quale dei seguenti fondenti agisce più rapidamente?

- A) Cloruro di sodio
- B) Sale marino grosso
- C) Cloruro di calcio

023. Il segnale stradale in figura indica:



- A) materiale instabile sulla strada
- B) caduta massi da sinistra
- C) caduta massi da destra

024. Ai sensi del comma 6 dell'art. 11 del Codice di Comportamento approvato con D.G.R. 1378/2023 il dipendente è tenuto a utilizzare la divisa, nella configurazione prevista, fornita dall'Amministrazione di competenza:

- A) Qualora sia necessario per garantire la propria sicurezza sul luogo di lavoro
- B) Qualora sia previsto da disposizioni di servizio o da regolamenti interni
- C) Qualora sia necessario, in base alle condizioni di lavoro, per non deteriorare i propri abiti Personali

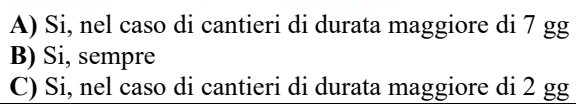
025. Le strade sono classificate, riguardo alle loro caratteristiche costruttive, tecniche e funzionali in diversi tipi (art. 2 Nuovo Codice della strada D.lgs. 285/1992). A quale tipo appartiene la STRADA LOCALE ?

- A) strada di tipo F
- B) strada di tipo C
- C) strada di tipo B

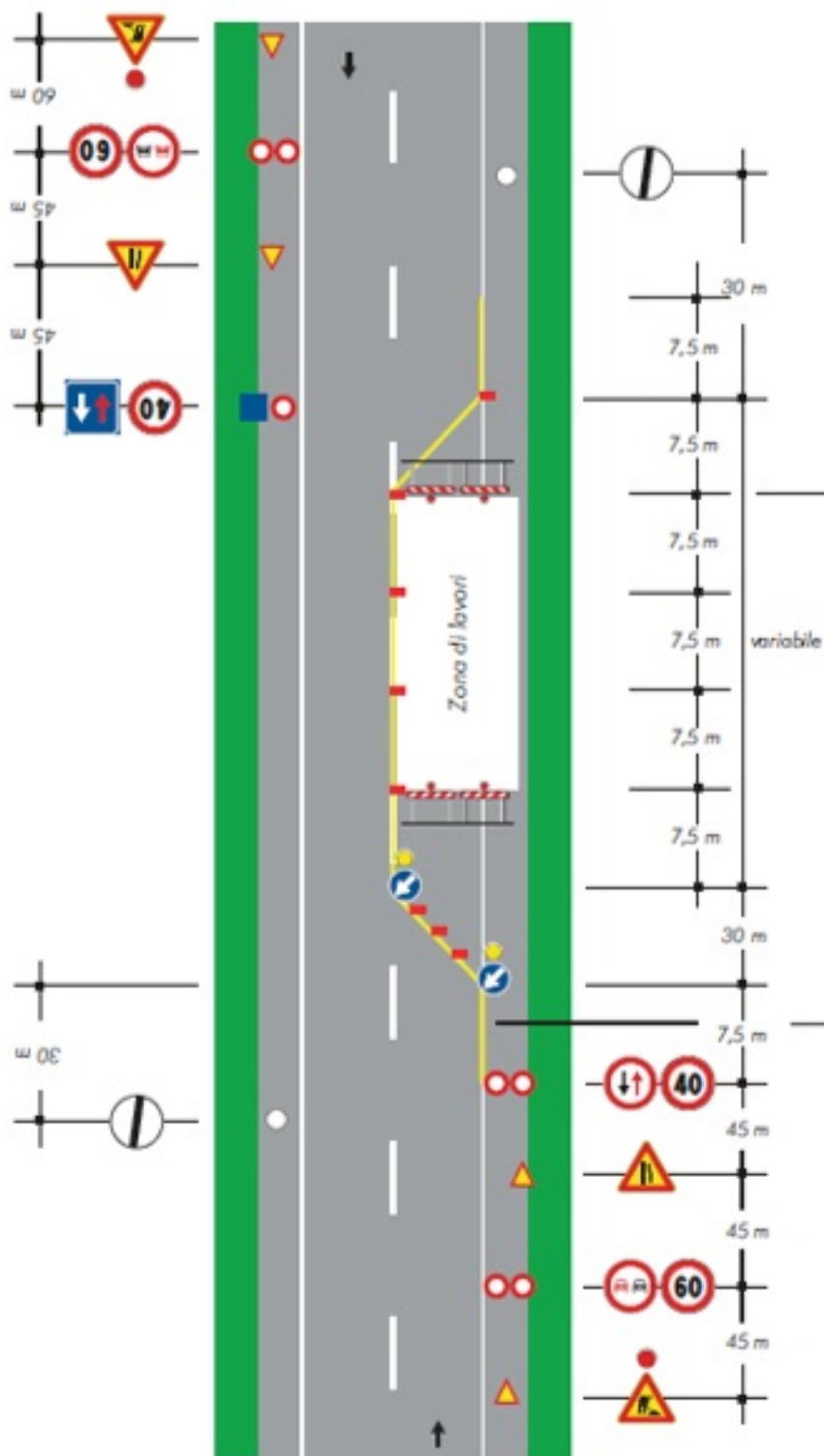
026. Ai sensi del comma 3 dell'art. 6 del Codice di Comportamento approvato con D.G.R. 1378/2023 il dipendente comunica al proprio ente l'esistenza di:

- A) Denunce per stalking presentate nei propri confronti
- B) Provvedimenti di rinvio a giudizio in procedimenti penali
- C) Sanzioni amministrative a lui comminate per violazione del codice della strada

**027. Con riferimento alla Tavola n. 71 allegata al Decreto 10 luglio 2002, la segnaletica orizzontale permanente va coperta?**



028. Con riferimento alla Tavola n. 64 allegata al Decreto 10 luglio 2002, quando la segnaletica orizzontale deve essere gialla (temporanea)?



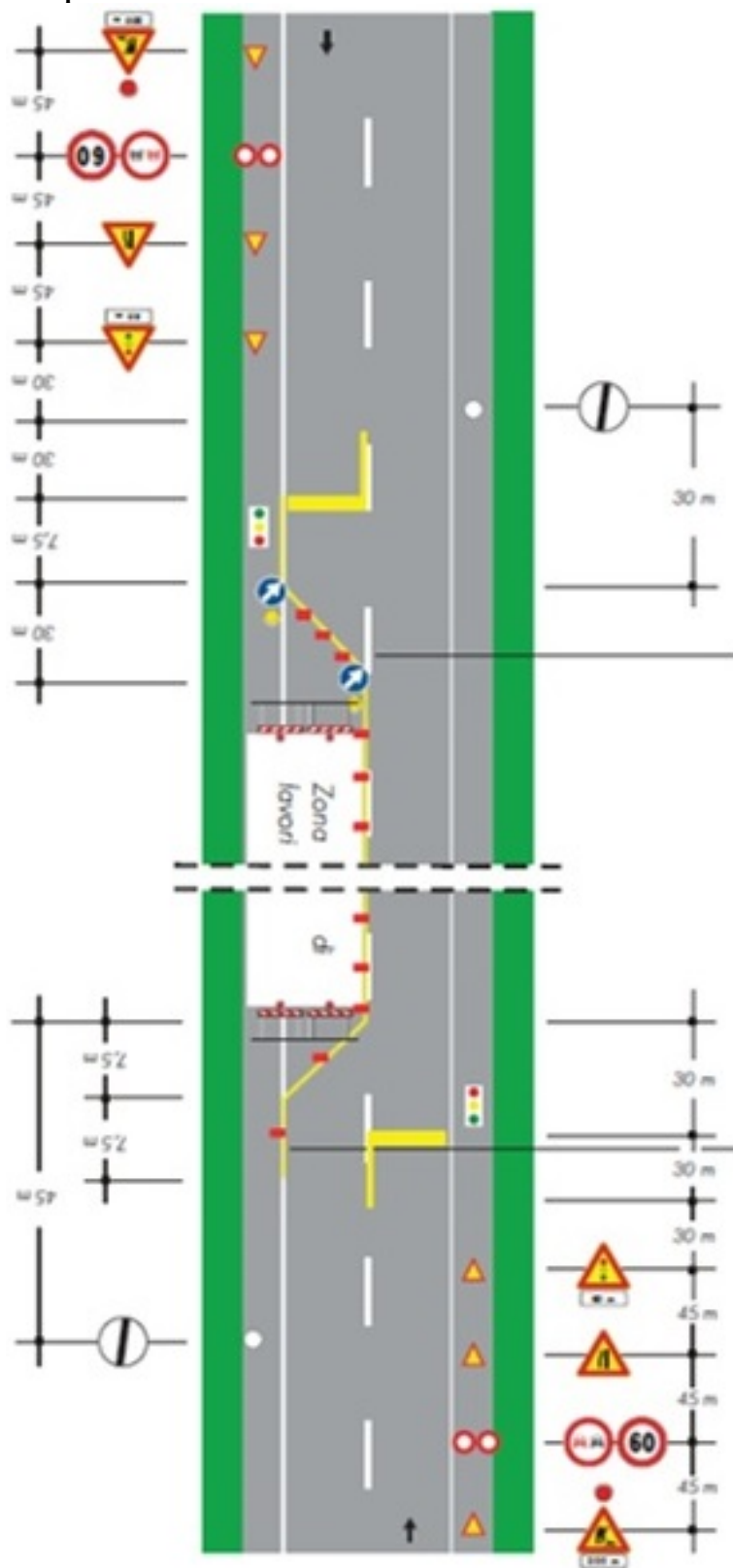
- A) Per lavori di durata superiore a 15 gg
- B) Solo per lavori di durata superiore a 7gg
- C) Per lavori di durata superiore a 3 gg

029. Cosa succede se un soggetto esegue lavori stradali senza autorizzazione?

- A) Riceve un rimborso
- B) È soggetto a sanzioni amministrative
- C) Non succede nulla



**030. Con riferimento alla Tavola n. 66 allegata al Decreto 10 luglio 200, possono permanere in opera segnali temporanei e segnali permanenti in contrasto fra loro?**



- A) No, bisogna oscurare provvisoriamente o rimuovere i segnali permanenti.  
B) Si, se il cantiere ha durata inferiore a 3gg  
C) Si, se il cantiere ha durata inferiore a 7 gg